

ВСЕРОССИЙСКАЯ ОЛИМПИАДА ШКОЛЬНИКОВ ПО ОБЖ
МУНИЦИПАЛЬНЫЙ ЭТАП
2018-2019 УЧЕБНЫЙ ГОД
9 КЛАСС

Максимальное время выполнения заданий: 140 мин для мальчиков и 144 мин для девочек.

(120 мин теоретический тур +20 мин практический тур для мальчиков и
120 мин теоретический тур +24 мин практический тур для девочек)

Максимальное количество набранных баллов: 200

ТЕОРЕТИЧЕСКИЙ ТУР

Уважаемый участник Олимпиады!

Вам предстоит выполнить теоретические и тестовые задания.

Выполнение теоретических заданий целесообразно организовать следующим образом:

- не спеша, внимательно прочитайте задание и определите, наиболее верный и полный ответ;
- отвечая на теоретический вопрос, обдумайте и сформулируйте конкретный ответ только на поставленный вопрос;
- если вы отвечаете на задание, связанное с заполнением таблицы или схемы, не старайтесь детализировать информацию, вписывайте только те сведения или данные, которые указаны в вопросе;
- особое внимание обратите на задания, в выполнении которых требуется выразить ваше мнение с учетом анализа ситуации или поставленной проблемы. Внимательно и вдумчиво определите смысл вопроса и логику ответа (последовательность и точность изложения). Отвечая на вопрос, предлагайте свой вариант решения проблемы, при этом ответ должен быть кратким, но содержать необходимую информацию;
- после выполнения всех предложенных заданий еще раз удостоверьтесь в правильности выбранных вами ответов и решений.

Выполнение тестовых заданий целесообразно проводить следующим образом:

- не спеша, внимательно прочитайте тестовое задание;
- определите, какой из предложенных вариантов ответа наиболее верный и полный;
- обведите кружком букву, соответствующую выбранному вами ответу;
- продолжайте таким образом работу до завершения выполнения тестовых заданий;
- после выполнения всех предложенных заданий еще раз удостоверьтесь в правильности выбранных вами ответов;
- если потребуется корректировка выбранного Вами варианта ответа, то неправильный вариант ответа зачеркните крестиком, а новый выбранный ответ обведите кружком.

Предупреждаем Вас, что:

• при оценке тестовых заданий, где необходимо определить *один правильный ответ*, 0 баллов выставляется как за неверный ответ, а также, если участником отмечены несколько ответов (в том числе правильный), или все ответы;

• при оценке тестовых заданий, где необходимо определить *все правильные ответы*, 0 баллов выставляется, если участником отмечены более 2-х ответов, или все ответы (в том числе правильные).

Задание теоретического тура считается выполненным, если Вы вовремя сдаете его членам жюри.

Желаем вам успеха!

Общая оценка результата теоретического тура участника **80** баллов

Председатель жюри теоретического тура _____

ТЕОРЕТИЧЕСКИЕ ЗАДАНИЯ

ТЕМАТИЧЕСКАЯ НАПРАВЛЕННОСТЬ «ОБЕСПЕЧЕНИЕ ЛИЧНОЙ БЕЗОПАСНОСТИ В ПОВСЕДНЕВНОЙ ЖИЗНИ»

ЗАДАНИЕ 1.

Наркомания — это привычка, при которой человек теряет способность думать и действовать самостоятельно

Какие вы знаете рекомендации, чтобы не употреблять наркотики?

Знаю, что не надо общаться с теми, кто употребляет наркотики, не брать наркотики в руки и не употреблять. Если кто-то не может отказаться от употребления наркотиков, то лучше обратиться к врачу и начать лечение. Также важно помнить, что употребление наркотиков может привести к серьезным последствиям, таким как потеря здоровья, денег и семьи.

Оценочные баллы: максимальный — 10 баллов:

фактический - 5 баллов

Подписи членов жюри Иванов И.И. Петров П.П.

ЗАДАНИЕ 2.

В процессе постоянного снижения температуры тела до опасных пределов в организме человека возникает переохлаждение. Наряду с общим переохлаждением, признаками которого являются температура, повышенная влажность воздуха, ветер могут вызвать местное поражение тела - обморожение.

Опишите четыре стадии обморожения:

Ответ:

1-я стадия -

Покраснение и припухлость, ощущение жжения, боли, покалывания.

2-я стадия -

Появление белых пятен, онемение, потеря чувствительности, образование пузырей.

3-я и 4-я стадии -

Возникновение глубоких тканей, образование пузырей, некроз тканей, образование язв, гангрены.

Оценочные баллы: максимальный - 10 баллов; фактический - _____ баллов

Подписи членов жюри _____

ЗАДАНИЕ 3.

Многочисленные человеческие жертвы при землетрясении являются следствием разрушения зданий, когда рушатся стены, перекрытия, падают кирпичи.

Опишите правила поведения дома при землетрясении:

Ответ:

Не паниковать. При землетрясении в здании или на улице необходимо немедленно лечь на пол, под стол или кровать. Если вы на улице, то необходимо укрыться в укрытии (если есть) или лечь на землю. Если вы на улице, то необходимо лечь на пол, под стол или кровать.

Оценочные баллы: максимальный - 10 баллов; фактический - _____ баллов

Подписи членов жюри _____

ТЕМАТИЧЕСКАЯ НАПРАВЛЕННОСТЬ «ОБЕСПЕЧЕНИЕ ЛИЧНОЙ БЕЗОПАСНОСТИ В ЧРЕЗВЫЧАЙНЫХ СИТУАЦИЯХ»

ЗАДАНИЕ 4.

С 1 сентября 1990 года, после катастрофы на Чернобыльской АЭС, Международным агентством по атомной энергетике была разработана и внедрена Международная шкала событий на АЭС. Используя приведенные ниже критерии, укажите наименования аварий:

№	Набор чрезвычайных ситуаций	Группа
1	Критическая	Выброс в окружающую среду большого количества радиоактивных продуктов, накопленных в активной зоне, в результате которого будут повышены дозовые пределы для запроектных аварий. Возможность острых лучевых поражений. Последующее влияние на здоровье населения, проживающего на большой территории, включающей более, чем одну страну.
2	ЧС с ограниченными масштабами	Выброс в окружающую среду большого количества радиоактивных продуктов, накопленных в активной зоне, в результате которого дозовые пределы для проектных аварий будут повышены, для запроектных – нет.
3	ЧС с ограниченными масштабами	Выброс в окружающую среду такого количества продуктов, которое приводит к незначительному превышению дозовых пределов для проектных аварий. Разрушение большей части активной зоны, вызванное механическим воздействием или плавлением. В некоторых случаях требуется частичное введение планов мероприятий по защите персонала и населения на случай аварии.
4	Значительный выброс	Выброс радиоактивных продуктов в окружающую среду в количествах, не превышающих дозовые пределы для населения при проектных авариях.
5	Незначительный выброс	Выброс в окружающую среду радиоактивных продуктов в количестве, не превышающем 5-кратный допустимый суточный сброс. Происходит значительное переоблучение работающих. За пределами площадки не требуется принятия защитных мер.

Оценочные баллы: максимальный – 10 баллов; фактический – 2 баллов

Подписи членов жюри

ЗАДАНИЕ 5.

Дайте определение эпидемическому очагу

Эпидемический очаг — это место с тем интересом, который является

Перечислите основные...

Не допускайте...
максимально...
минимально...
технические...
в их...
минимум...

Оценочные баллы: максимальный – 10 баллов; фактический - ___ баллов

Подписи членов жюри

ЗАДАНИЕ 6.

Перечислите правила поведения в защитных сооружениях.

Не...
зачеркивать...
не...
не...
не...

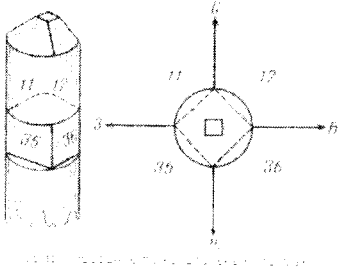
Оценочные баллы: максимальный – **10 баллов**; фактический - _____ баллов

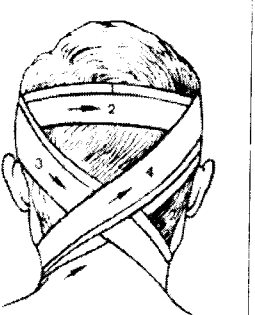
Подписи членов жюри







ТЕСТОВЫЕ ЗАДАНИЯ

№	Тестовые задания	Макс. балл	Количество набранных баллов
<i>Определите один правильный ответ</i>			
1	<p>Отметьте недопустимое положение в перечне Основ работы пожарной команды при тушении электроустановок под напряжением:</p> <p><input checked="" type="checkbox"/> А) При работе с пенными составами осуществляется заземление пеногенераторов, стволов и насосов пожарных машин</p> <p><input type="checkbox"/> Б) Соблюдаются безопасные расстояния для тушения</p> <p><input checked="" type="checkbox"/> В) Используются исключительно пенные огнетушители</p> <p><input type="checkbox"/> Г) Тушение ведётся в специализированной одежде</p>	1	
2	<p>Для перевозки людей на мотоцикле водитель должен иметь водительское удостоверение на право управления транспортными средствами:</p> <p><input checked="" type="checkbox"/> А) Категории «А» или подкатегории «А1».</p> <p><input type="checkbox"/> Б) Любой категории или подкатегории в течение двух и более лет.</p> <p><input type="checkbox"/> В) Только категории «А» или подкатегории «А1» в течение двух и более лет.</p> <p><input type="checkbox"/> Г) Категория «А» и «В»</p>	1	
3	<p>Для обозначения людей, имеющих право принимать участие в военных действиях, в международном праве используется термин:</p> <p><input type="checkbox"/> А) репатрианты</p> <p><input checked="" type="checkbox"/> Б) комбатанты</p> <p><input type="checkbox"/> В) интернированные</p>	1	
4	<p>В каких случаях следует начинать сердечно-легочную реанимацию пострадавшего в ДТП?</p> <p><input type="checkbox"/> А) При наличии болей в области сердца и затрудненного дыхания.</p> <p><input type="checkbox"/> Б) При отсутствии у пострадавшего сознания, независимо от наличия дыхания.</p> <p><input checked="" type="checkbox"/> В) При отсутствии у пострадавшего сознания, дыхания и кровообращения.</p>	1	
5	<p>Террористический акт в Беслане — захват заложников в школе № 1 совершен:</p> <p><input checked="" type="checkbox"/> А) 1 сентября 2004 года</p> <p><input type="checkbox"/> Б) 31 мая 2008 года</p> <p><input type="checkbox"/> В) зимой 2005 года</p> <p><input type="checkbox"/> Г) 1 августа 2014 года</p>	1	
6	<p>Выберите правильный вариант действий во время операции по освобождению заложников.</p> <p><input type="checkbox"/> А) Не двигаться, не разговаривать, не паниковать, покинуть место захвата, собрав свои вещи</p> <p><input checked="" type="checkbox"/> Б) Пригнуться или лечь на пол, закрыть голову руками и не двигаться, по команде покинуть место захвата, оставив свои вещи</p> <p><input type="checkbox"/> В) Помогать спецгруппе по освобождению заложников и обезоруживанию террористов</p>	1	

	Г) Пытаться незаметно убежать с места проведения спецоперации		
7	<p>Что означает сигнал регулировщика «руки вытянуты в стороны или опущены» для трамваев и безрельсовых транспортных средств, находящихся со стороны груди и спины?</p> <p><input type="radio"/> А) Водителям автомобилей разрешается проезд прямо или направо: трамваи - прямо</p> <p><input type="radio"/> Б) Движение запрещено</p> <p><input checked="" type="radio"/> В) Водителям трамваев – движение запрещено, водителям автомобилей разрешен только проезд прямо</p> <p>Г) Трамваям – стоять, автомобилям – движение во всех направлениях</p>		
8	<p>Мера административного наказания, выраженная в официальном порицании физического или юридического лица, выносимая в письменной форме.</p> <p>А) лишение специального права, предоставленного физическому лицу</p> <p>Б) изъятие орудия совершения или предмета административного правонарушения</p> <p>В) административный штраф</p> <p><input checked="" type="radio"/> Г) предупреждение</p>	1	
9	<p>Как определить стороны света по квартальному столбу в лесу?</p>  <p><input checked="" type="radio"/> А) угол между двумя самыми маленькими числами (на двух гранях столба) будет указывать на север, противоположный ему угол (с двумя другими, более крупными числами) укажет на юг</p> <p>Б) угол между двумя самыми маленькими числами (на двух гранях столба) будет указывать на юг</p> <p>В) угол между двумя самыми маленькими числами (на двух гранях столба) будет указывать на восток</p> <p>Г) угол между двумя самыми маленькими числами (на двух гранях столба) будет указывать на запад</p>	1	
10	<p>Две звезды на погоне носят:</p> <p><input checked="" type="radio"/> А) прапорщик, мичман, лейтенант, подполковник, капитан 2-го ранга, генерал-лейтенант, вице-адмирал</p> <p>Б) прапорщик, лейтенант, подполковник, генерал-лейтенант, вице-адмирал</p> <p>В) лейтенант, капитан, старший майор, подполковник, капитан 2-го ранга</p> <p>Г) старший сержант, старший прапорщик, старший лейтенант, контр-адмирал</p>	1	

11	<p>День воинской славы 10 июля 1709 года установлен в честь</p> <p>А) Дня победы русской эскадры под командованием П. С. Нахимова над турецкой эскадрой у мыса Синоп. Б) Дня разгрома советскими войсками немецко-фашистских войск в Сталинградской битве. В) Дня победы русской армии под командованием Петра Первого над шведами в Полтавском сражении. Г) Дня взятия турецкой крепости Измаил русскими войсками под командованием А. В. Суворова.</p>			
12	<p>В группу «Антисептики. Кислоты» объединены препараты:</p> <p>А) Перекись водорода, Гидроперит, Калия перманганат Б) Кислота салициловая, Кислота борная, Вазелин борный, Спирт борный, Паста Теймурова В) Натрия борат (бура, натрий борнокислый), Бикарминт, Нашатырный спирт Г) Фенол, кислота карболовая, Лизол, Резорцин</p>	1		
13	<p>На каких объектах недопустимо вывешивание флага с эмблемой Красного Креста:</p> <p>А) на военном госпитале Б) на палатке полкового медицинского пункта В) на санитарной машине перевозящей раненых Г) на складе боеприпасов, расположенном рядом с госпиталем</p>	1		
14	<p>Известно, что сила ветра измеряется его скоростью. Выберите, наименование шкалы силы ветра:</p> <p>А) шкала Рихтера Б) шкала Ломоносова В) шкала Менделеева Г) шкала Бофорта</p>	1		
15	<p>На приведенном рисунке применена одна из перечисленных повязок. Выберите из списка:</p> <p>А) Крестообразная повязка Б) Узелочка В) «Шапка Гиппократа» Г) Чепец</p>		1	
16	<p>За какой подвиг Петр I повелел гвардейцам носить вместо зеленых чулок красные?</p> <p>А) Сохранены как элемент красных сафьяновых сапог стрелецких полков Б) Свое боевое крещение российская гвардия получила в Нарвском сражении 1700 года, где спасла Русскую армию от полного уничтожения. Гвардия «Стояла по колена в крови» В) За победу под Полтавой</p>	1		

17	<p>Знак «Велосипедная дорожка», определяющий место движения велосипедистов и конструктивно не связанное с проезжей частью, выглядит так:</p>		
	<div style="display: flex; justify-content: space-around; align-items: center;"> <div style="text-align: center;">  А) </div> <div style="text-align: center;">  Б) </div> <div style="text-align: center;">  В) </div> <div style="text-align: center;">  Г) </div> </div>		
18	<p>Слова «паводок» и «половодье» получили довольно широкое распространение в повседневной речи. Наиболее характерная черта отличия паводка от половодья это:</p> <p>А) нерегулярность Б) уровень подъёма воды В) техногенная составляющая Г) нет существенных отличий</p>	1	
19	<p>Специальные войска в Вооружённых Силах Российской Федерации, предназначенные для защиты вооружённых сил от оружия массового поражения с помощью применения специальной техники это:</p> <p>А) Саперные войска Б) Инженерные войска В) Войска радиационной, химической и биологической защиты Г) Химические войска</p>	1	
20	<p>Признаком клинической смерти, которые очень просто определяется и для этого не обязательно иметь каких-либо специальных знаний не является:</p> <p>А) отсутствие сознания Б) отсутствие реакции зрачков на свет В) отсутствие слуха Г) отсутствие дыхания Д) отсутствие пульса на сонной артерии</p>	1	